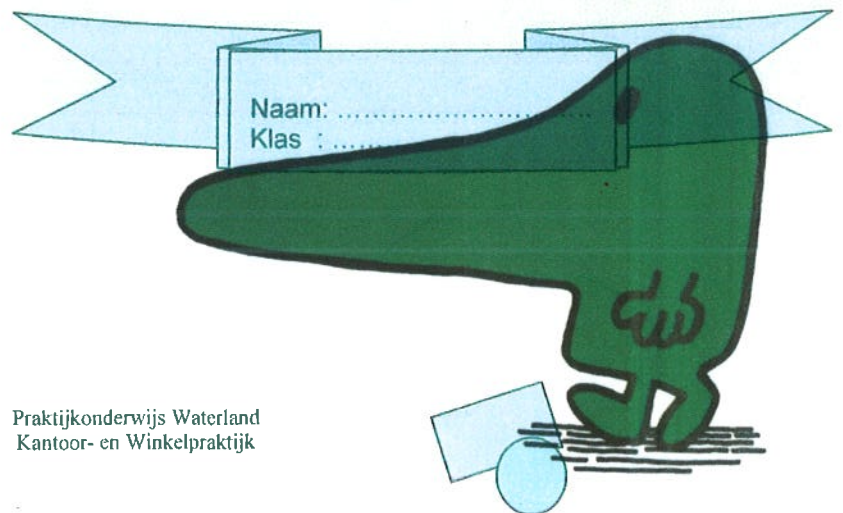


Zorgvuldig,
zonder fouten,
en toch snel werken
achter de kassa

Dit Hooft bij
INLEIDING
VIER opdrachten MET
INSTRUCTIE filmpjes

NOVEMBER 2003



Dit boekje...

Je hebt een paar oefeningen gedaan op de kassa. Het ging daarbij vooral om het aanslaan van de toetsen en het gebruik van de nul en de dubbel-nul toets.

Voor kassawerk moet je de volgende dingen goed kunnen:


- a. Je werkt zorgvuldig en zonder fouten
- b. Je werkt snel én zonder fouten
- c. Je bent vriendelijk en beleefd naar de klanten
- d. Je ziet er verzorgd uit
- e. Je kunt geld op de juiste manier teruggeven
- f. Je bent betrouwbaar

In dit boekje ga je vooral werken aan de onderdelen a. en b.

Je krijgt opdrachten om:

- a. zorgvuldig en zonder fouten te leren werken
- b. in een bepaald tempo te leren werken

Veel succes!






Naam:
 Klas :

WERKBLAD 1


KASSABONNEN MAKEN

cijfer

Hieronder zie je drie kleine kassabonnen. Ze zijn gemaakt op de G-1200 in het praktijklokaal.
 Het gaat erom dat je leert de toetsen van de kassa goed te gebruiken.
 Maak de bonnen precies na! Plak jouw bon steeds naast de afbeelding in deze opdracht.
 Kijk eerst nog eens goed op het blad met toetsen en hoe je die gebruikt!




10784.36
9 ÷ 1
 2.712372




10784.36

9 ÷ 1

- 2.15
- 1.45
- 1.23
- 5.23
- 0.69
- 0.87
- 0.54
- 0.65
- 1.59
- 1.59
- 0.48
- 0.78
- 0.78
- 0.58
- 0.58
- 1.25
- 1.25
- 3.20
- 1.20
- 2.20
- 6.20
- 8.00
- 1.00
- 1.00
- 1.79
- 1.79
- 0.25
- 0.25
- 4.95
- 1.59
- 1.60
- 0.63
- 0.63
- 0.63
- 0.63
- 1.45
- 1.65
- 2.58
- 1.95
- 1.99
- 15.00
- 83.65



0452



WERKBLAD 2

KASSABONNEN

Naam:

Klas :

cijfer

Maak een kassabon voor de volgende artikelen. Plak jouw bon uit de kassa naast elke lijst.

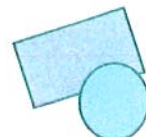
Lijst 1

Volle melk	€	1,09
Halvarine	€	0,47
Jonge kaas	€	7,30
Stokbrood	€	0,72
Vleeswaren	€	2,05
Appelsap	€	1,09
Totaal	€	12,72



Lijst 2

Zakdoekjes	€	1,45
Tandpasta	€	1,94
Haarlak	€	2,30
Shampoo	€	2,80
Wasmiddel	€	12,05
Haargel	€	2,09
Scheerschuim	€	3,05
Totaal	€	25,68




Lijst 3

Zaag	€	23,00
Tang	€	11,95
Hamer	€	9,99
Schuurpapier	€	2,80
Wasbenzine	€	2,05
Verf	€	32,09
Totaal	€	81,88



Lijst 4

Mars	€	0,45
Bounty	€	0,55
Dropruitjes	€	1,32
Spekkies	€	2,05
Caramel	€	1,39
Lollies	€	3,25
Totaal	€	9,01




WERKBLAD 3

WERKEN IN EEN KLEDINGZAAK

Naam:

Klas :

cijfer




Je werkt in een kledingzaak. Daar komt van alles over de toonbank. Maak kassabonnen van de inkopen die klanten bij jou doen en plak de bon naast de plaatjes. LET OP HOEVEEL ARTIKELEN JE ZIET!!



Hoeveel kost het samen? € _____



Hoeveel kost het samen? € _____






€ 35,95

€ 12,50

Hoeveel kost dit samen?

€ _____



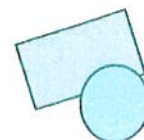

€ 12,75

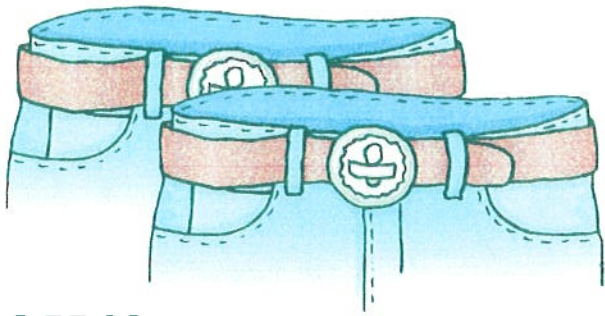
€ 58,99

€ 109,00

€ 49,95


Hoeveel kost dit samen? € _____





€ 55,90



Hoeveel kost dit samen? € _____



€ 85,45

€ 79,00

Hoeveel kost dit samen? € _____





€ 56,95

€ 89,00

Wat kost dit bij elkaar? € _____



€ 245,00

€ 19,98


Wat kost dit samen? € _____



€ 12,75

Wat kosten de petten samen?

€ _____



WERKBLAD 4

PRIJZEN IN DE SNOEPWINKEL



Naam:	cijfer
Klas :	

Je werkt in een snoepwinkel. Je weet wel, zo'n winkel waar je lekker mag scheppen en waar je het snoep in mooie zakjes kunt doen. Gelukkig hoef je (nog niet) niet te wegen en te rekenen, maar je moet wel de prijzen aanslaan voor de klanten. Let wel goed op de aantallen! Soms moet je doorrekenen! Plak de kassabon erbij.

A. Een moeder met drie kinderen, doet inkopen. Zij kiest:



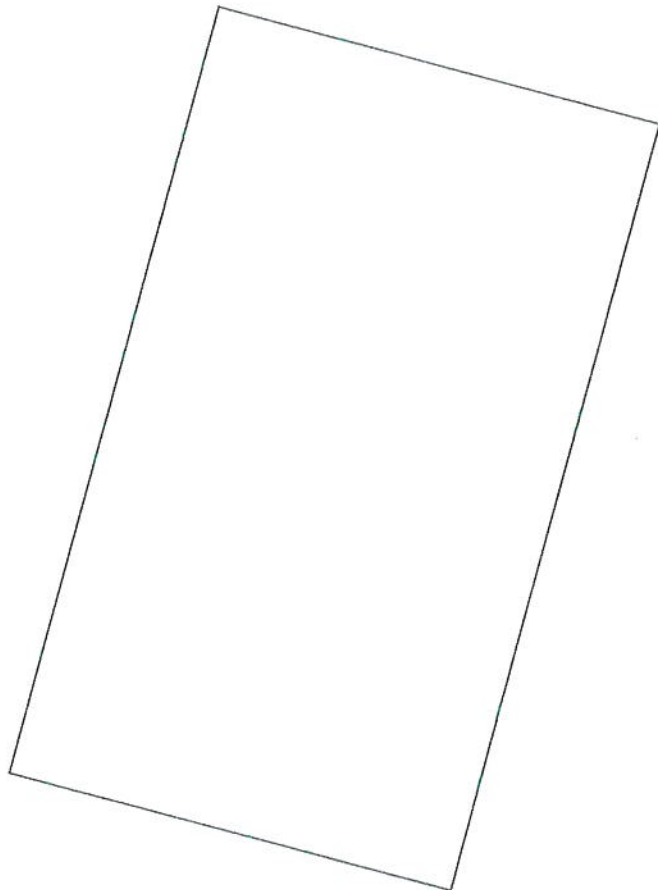
1 zak toffees van € 3,45




3 lollies per stuk € 0,25




1 zak zuurtjes van € 3,89



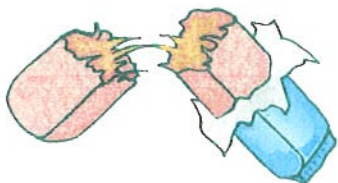
Hoeveel moet deze mevrouw betalen? € _____



B. Een meneer, die beslist al veel te dik is, koopt:

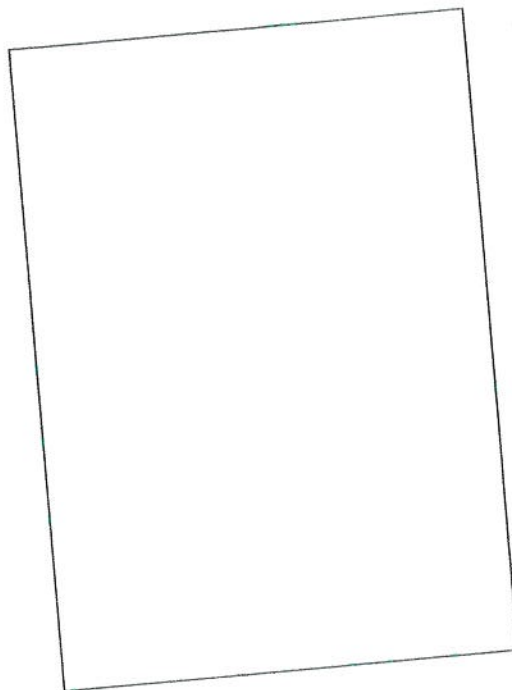


1 zak chocoladebonbons van € 7,98




1 caramelpreep van € 1,95

Hoeveel moet deze meneer betalen? € _____




C. Caroline heeft van haar oma geld gekregen. Ze koopt er voor:



1 Giant lolly van € 1,60



2 marsepein gebakjes van € 1,75 per stuk



1 zak zuurtjes van € 3,35

Hoeveel moet Caroline betalen? € _____

